

1. Řidič nesmí vjíždět na železniční přejezd

- A) pokud je ohlášeno zpoždění vlaku
 - B) dokud vlak nezastaví
 - C) je-li dávana výstraha přerušovaným zvukem houkačky nebo zvonku přejezdového zabezpečovacího zařízení
-

2. Na jednomístném jízdním kole

- A) není dovoleno jezdit ve dvou
 - B) je dovoleno jezdit nejvýš ve dvou
 - C) je dovoleno jezdit ve dvou, případně i ve třech
-

3. Řidič, na jehož straně jízdy je překážka

- A) dává přednost protijedoucímu řidiči
 - B) má přednost před protijedoucím řidičem
 - C) dává přednost jen velkým autům
-

4. „Neomezit“ znamená

- A) dát vždy a všem přednost v jízdě
 - B) nepřekážet
 - C) nezastavovat
-

5. Při odbočování vlevo řidič dává přednost

- A) pouze autobusům
 - B) mimo jiné také tramvajím jedoucím v obou směrech
 - C) pouze souběžně jedoucí tramvaji
-

6. Na pozemní komunikaci jezdíme jednotlivě za sebou

- A) s dostatečným odstupem
 - B) těsně, když máme dobře seřízené brzdy
 - C) s odstupem nejméně 10 m
-

7. Cyklistické brýle

- A) při jízdě jenom překážejí
 - B) chrání zrak, např. před sluncem nebo vlétnutím hmyzu do oka
 - C) jsou jenom módním doplňkem
-

8. K doporučené výbavě jízdního kola patří

- A) tachometr
- B) zvonek
- C) kompas

9. Smí cyklista pokračovat v jízdě touto ulicí?

- A) ano
- B) ne




10. Na tento železniční přejezd se smí vjíždět.

- A) ne
- B) ano



11. Užívá cyklista přechod pro chodce správně?

- A) ano
- B) ne



12. Dopravní značka označuje

- A) most přes řeku
- B) pozemní komunikaci, na kterou cyklisté nesmějí vjíždět
- C) silnici I. třídy




13. Dopravní značka upozorňuje

- A) na železniční přejezd bez závor
- B) na blížící se zákaz vjezdu nebo slepou ulici
- C) na křižovatku, kde není přednost v jízdě upravena dopravními značkami



14. Najdi značku „Přejezd pro cyklisty“:



A



B



C

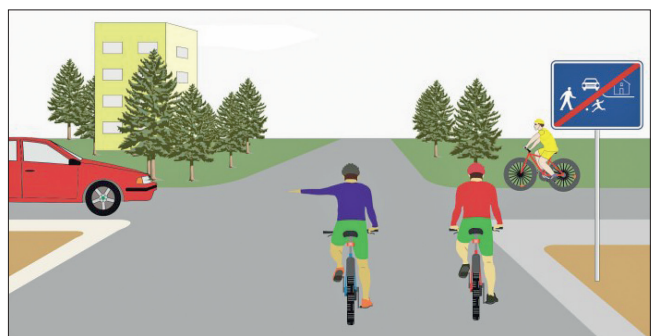
15. Rozsvícený světelný signál znamená

- A) zákaz vjezdu do jízdního pruhu
- B) volný vjezd do jízdního pruhu
- C) přikázaný směr jízdy



16. Cyklisté z výhledu

- A) projedou současně jako první
- B) dávají přednost žlutému cyklistovi a červenému vozidlu
- C) dávají přednost jen cyklistovi zprava



17. Cyklista z výhledu

- A) dává přednost modrému cyklistovi
- B) může vjet na kruhový objezd
- C) dává přednost červenému vozidlu



18. Cyklista

- A) projede jako první současně s červeným vozidlem
- B) dává přednost modrému vozidlu
- C) dává přednost červenému vozidlu



19. Pokyn policisty znamená

- A) „Volno!“ pro modrého cyklistu a zelené vozidlo
- B) „Volno!“ pro cyklistu z výhledu
- C) že chodci nesmějí přecházet



20. Cyklisté nesmějí jezdit po chodníku na obrázku

- A)
- B)

A



B