

1. Cyklisté smějí jet

- A) nejvýše dva vedle sebe
 - B) jen jednotlivě za sebou
 - C) dva a více vedle sebe
-

2. Otáčet nebo couvat je zakázáno

- A) za snížené viditelnosti
 - B) před nepřehledným vrcholem stoupání pozemní komunikace, na něm a za ním
 - C) ve vzdálenosti nejméně 100 m před křižovatkou
-

3. Do obytné zóny

- A) mohou vjíždět jen osobní auta
 - B) nesmějí vjíždět cyklisté
 - C) mohou vjíždět cyklisté
-

4. „Křižovatka s řízeným provozem“

- A) je křižovatka řízená světelnými signály
 - B) je křižovatka řízená dopravními značkami
 - C) je křižovatka řízená některým z řidičů
-

5. Pokud cyklista vede jízdní kolo

- A) smí užít chodníku, jen neohrozí-li ostatní chodce
 - B) nesmí v žádném případě užít chodník
 - C) nesmí chodník užít jen za snížené viditelnosti
-

6. Sluchátka na uších s hlasitou hudbou

- A) jsou důležitá pro dynamiku jízdy
 - B) jsou pro cyklistu nebezpečná, protože neslyší zvuky provozu
 - C) jsou vhodná pro zábavu během jízdy
-

7. Předvídat možné nebezpečí

- A) musíme jen v městském provozu
 - B) můžeme jen za snížené viditelnosti
 - C) musíme vždycky
-

8. Volné konce trubky řídítek

- A) nemohou být opatřeny zátkami
- B) nesmí být zaslepeny
- C) musí být spolehlivě zaslepeny, např. rukojeti nebo zátkami

9. Smějí cyklisté vjíždět do této ulice a jezdit vedle sebe?


- A) ano
- B) ne

**10. Smí cyklista vjíždět na tuto pozemní komunikaci?**

- A) ne
- B) ano

**11. Je jezdec na koloběžce pro jízdu správně vybaven?**

- A) ano
- B) ne



12. Dodatková tabulka znamená

- A) křižovatku
- B) zvýšení počtu jízdních pruhů
- C) povolený směr jízdy cyklistů

**13. Dopravní značka označuje**

- A) zákaz vjezdu cyklistů a vstupu chodců
- B) dělenou stezku pro chodce a cyklisty
- C) konec stezky pro chodce a cyklisty

**14. Vyber značku, která označuje hlavní pozemní komunikaci**

A



B



C

15. Takto rozsvícený světelný signál znamená

- A) připravit se k jízdě
- B) „Volno“ pro směr přímo nebo vpravo
- C) „Volno“ pro směr vlevo

**16. Cyklista**

- A) může projet současně se zeleným vozidlem
- B) musí dát přednost modrému vozidlu
- C) má přednost před modrým vozidlem



17. V této dopravní situaci

- A) projede jako první tramvaj
- B) projede jako první vozidlo hasičů
- C) projede jako první cyklista



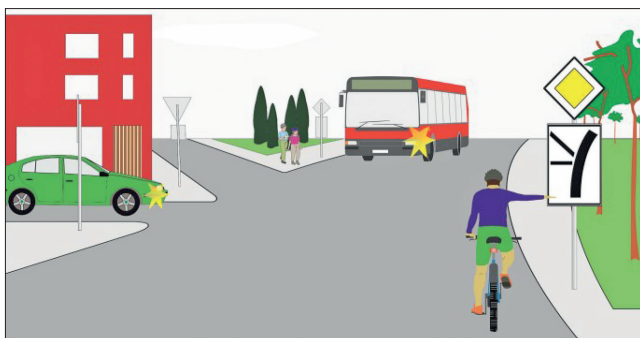
18. Pokyn policisty znamená

- A) „Volno!“ pro cyklistu a červené vozidlo
- B) „Stůj!“ pro cyklistu
- C) „Volno!“ pro žluté vozidlo



19. Cyklista

- A) projede křižovatku jako poslední
- B) projede křižovatku současně s autobusem jako první
- C) dává přednost autobusu




20. Dopravní značka, která příkazuje zastavit vozidlo, je na obrázku

- A)
- B)

A



B



B